

Werkboekje Pasen

groep 3 en 4



Naam:

Lange ij of korte ei?

Niet groot, maar kl__n.

De pr__s is tien euro.

Ik k__k naar een film.

Ik eet een __s.

Dat is een rechte l__n.



Het **pl__n** is al leeg.

Ik eet een __ met Pasen.

Jij bent niet goed **w__s**.

Au. Je doet me **p__n**.


Meng wit en zwart, dan heb je **gr__s**.

Niet arm, maar **r__k**.

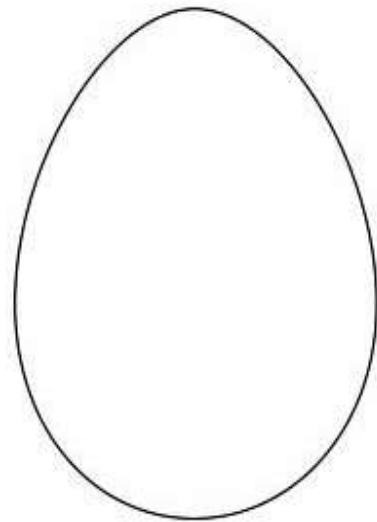
Ik ga op een lange **r__s**.




Lees goed en versier de eieren.




Maak dit ei geel met rode stippen en een groene streep in het midden.



Maak dit ei paars met drie roze hartjes en vier rode stippen.




Maak dit ei vol met strepen. Om de beurt rood, geel en blauw.



Maak dit ei zoals je zelf wilt, maar zonder geel en groen.


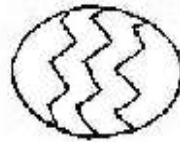
Zoek alle woorden in de woordzoeker.



palmtak vrijdag paasei lam paastak

voorjaar paashaas kuiken lente

kip schaap



q y a n m r f a c x m h
v r i j d a g i d u u w
p t o c p c g v w u s y
f l t i i x d g x j k c
i a p e s c h a a p l t
p a l m t a k o e u e a
v o o r j a a r a s n g
s f a p a a s e i l t k
p a a s h a a s u a e u
p a a s t a k l y m n i
o x z b h k c r u n p k
i k o h q i a e t x t e
q p w d i p z k c r e n

Zoek het eitje met het goede antwoord.
Trek er een lijn naartoe.

$19 - 16 =$

$7 + 11 =$

$15 + 13 =$

$16 + 12 =$

$5 - 5 =$

0 16 9 18 28

28 3 34 13 10

$16 - 3 =$

$1 + 15 =$

$14 + 20 =$

$16 - 6 =$

$5 + 4 =$

$11 - 8 =$

$20 - 15 =$

$20 - 16 =$

$20 - 11 =$

$7 - 7 =$

3 0 9 22 4

4 3 5 0 28

$8 + 20 =$

$8 - 5 =$

$18 + 4 =$

$8 - 8 =$

$7 - 3 =$

$4 + 13 =$

$8 + 11 =$

$16 + 16 =$

$16 - 8 =$

$14 - 6 =$

18 8 17 27 32

8 8 22 19 8

$18 - 10 =$

$15 + 3 =$

$10 + 12 =$

$16 - 8 =$

$14 + 13 =$

$20 - 12 =$

$12 + 19 =$

$16 - 1 =$

$20 + 9 =$

$1 + 13 =$

31 30 8 15 14

8 8 28 14 29

$18 - 10 =$

$10 + 20 =$

$10 + 18 =$

$2 + 6 =$

$1 + 13 =$

$13 + 18 =$

$3 + 19 =$

$19 - 19 =$

$14 - 1 =$

$13 + 20 =$

31 18 22 13 13

0 22 31 2 33

$13 + 5 =$



$14 + 8 =$

$20 + 11 =$

$14 - 12 =$


$1 + 12 =$

Zoek de vijf verschillen!





Hoe komt dit meisje bij haar paaseieren?

Zoek een weg door het doolhof.



Tel hoeveel stuks er van soort ei zijn.
Vul het in in de grafiek.



palm palm pasen

ei koerei

over ene zondag

dan hebben wij een ei

een ei is geen ei

twee ei is een half ei

drie ei is een paasei

